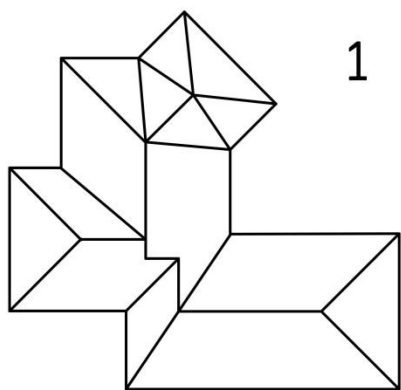


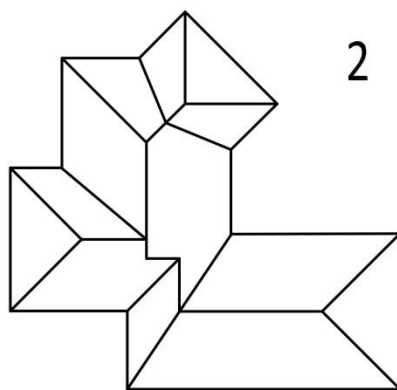
1. Które figury można otrzymać przecinając płaszczyzną sześcian?
Zaznacz właściwe odpowiedzi.

A	<input type="radio"/>
B	<input type="radio"/>
C	<input type="radio"/>
D	<input type="radio"/>
E	<input type="radio"/>
F	<input type="radio"/>
G	<input type="radio"/>
H	<input type="radio"/>
I	<input type="radio"/>
J	<input type="radio"/>

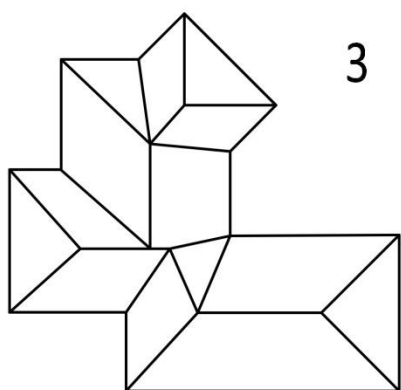
6 PKT.



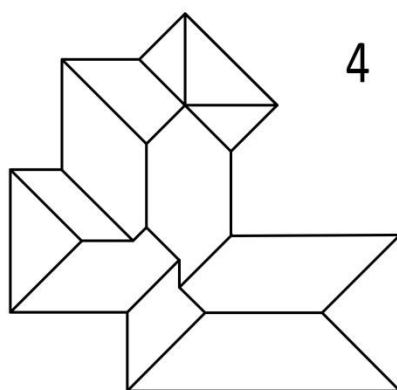
1



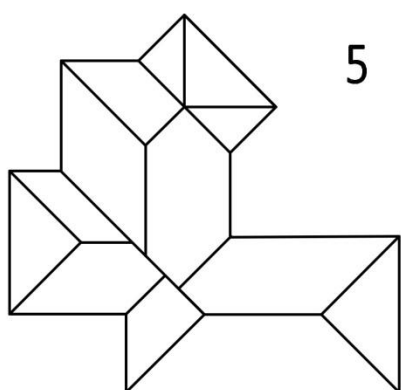
2



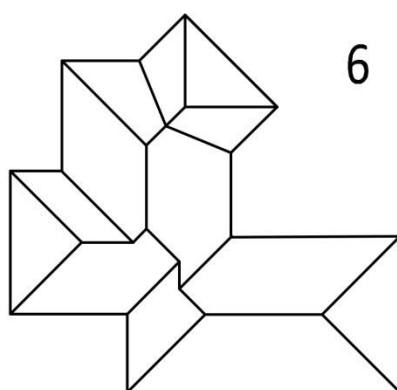
3



4



5



6

2. Który rysunek przedstawia właściwy układ krawędzi dachu wielospadowego, przy założeniu, że na całym obwodzie okap jest na tym samym poziomie, a wszystkie połacie dachu nachylone są pod jednakowym kątem (nachylenie prostopadłe do okapów)?
Oznacz właściwą odpowiedź.

1 2 3 4 5 6

4 PKT.